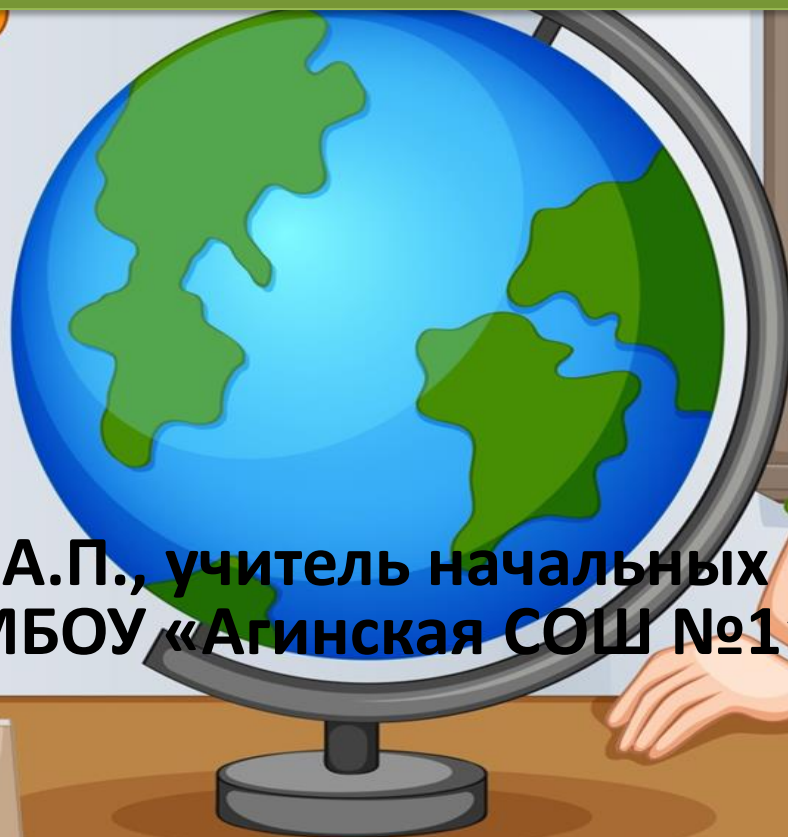



Функциональная грамотность



**Жукова А.П., учитель начальных классов
МБОУ «Агинская СОШ №1»**



Читательская грамотность



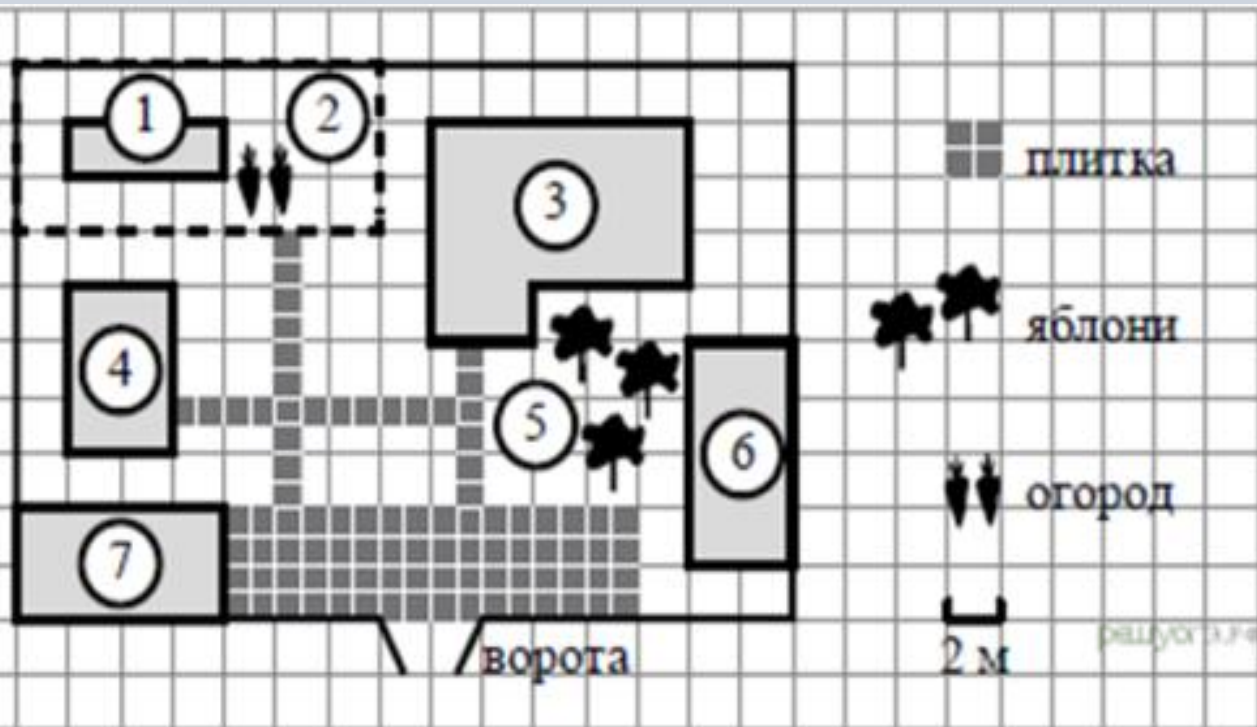
Читательская грамотность: советы

- Совет №1. Начните с простых текстов
- Совет №2. Предлагайте картинки вместо длинных текстов
- Совет №3. Используйте комментированное чтение
- Совет №4. Учите читать «между строк»
- Совет №5. Учите детей прогнозировать сюжетные ходы и поступки героев
- Совет №6. Задавайте нестандартные вопросы
- Совет №7. Давайте текст с пропущенными ключевыми словами.

«Формирование
читательской
грамотности
обучающихся
посредством
использования
контекстных
заданий».



Задача. «План»



Прочитайте внимательно текст и выполните задание. На плане изображено домохозяйство по адресу: с. Агинское, ул. Комсомольская 82 (сторона каждой клетки на плане равна 2 м). Участок имеет прямоугольную форму. Выезд и въезд осуществляются через единственные ворота. При входе на участок справа от ворот находится баня, а слева — гараж, отмеченный на плане цифрой 7. Площадь, занятая гаражом, равна 32 кв. м. Жилой дом находится в глубине территории. Помимо гаража, жилого дома и бани, на участке имеется сарай (подсобное помещение), расположенный рядом с гаражом, и теплица, построенная на территории огорода (огород отмечен цифрой 2).



объекты	Жилой дом	сарай	баня	теплица
цифры				





Вопрос 1

Перед жилым домом имеются яблоневые посадки. Все дорожки внутри участка имеют ширину 1 м и вымощены тротуарной плиткой размером 1 м × 1 м. Между баней и гаражом имеется площадка площадью 64 кв. м, вымощенная такой же плиткой. **Хозяйка захотела поменять тротуарную плитку. Тротуарная плитка продаётся в упаковках по 4 штуки. Сколько упаковок плитки понадобилось, чтобы выложить все дорожки и площадку перед гаражом? В таблице представлены фирмы, где можно приобрести понравившуюся тротуарную плитку. Выбрать выгодную покупку.**



№	фирмы	Стоимость 1 упаковки	Общая сумма
1	Мир	45 рублей	
2	Дружба	34 рубля	
3	Миф	39 рублей	



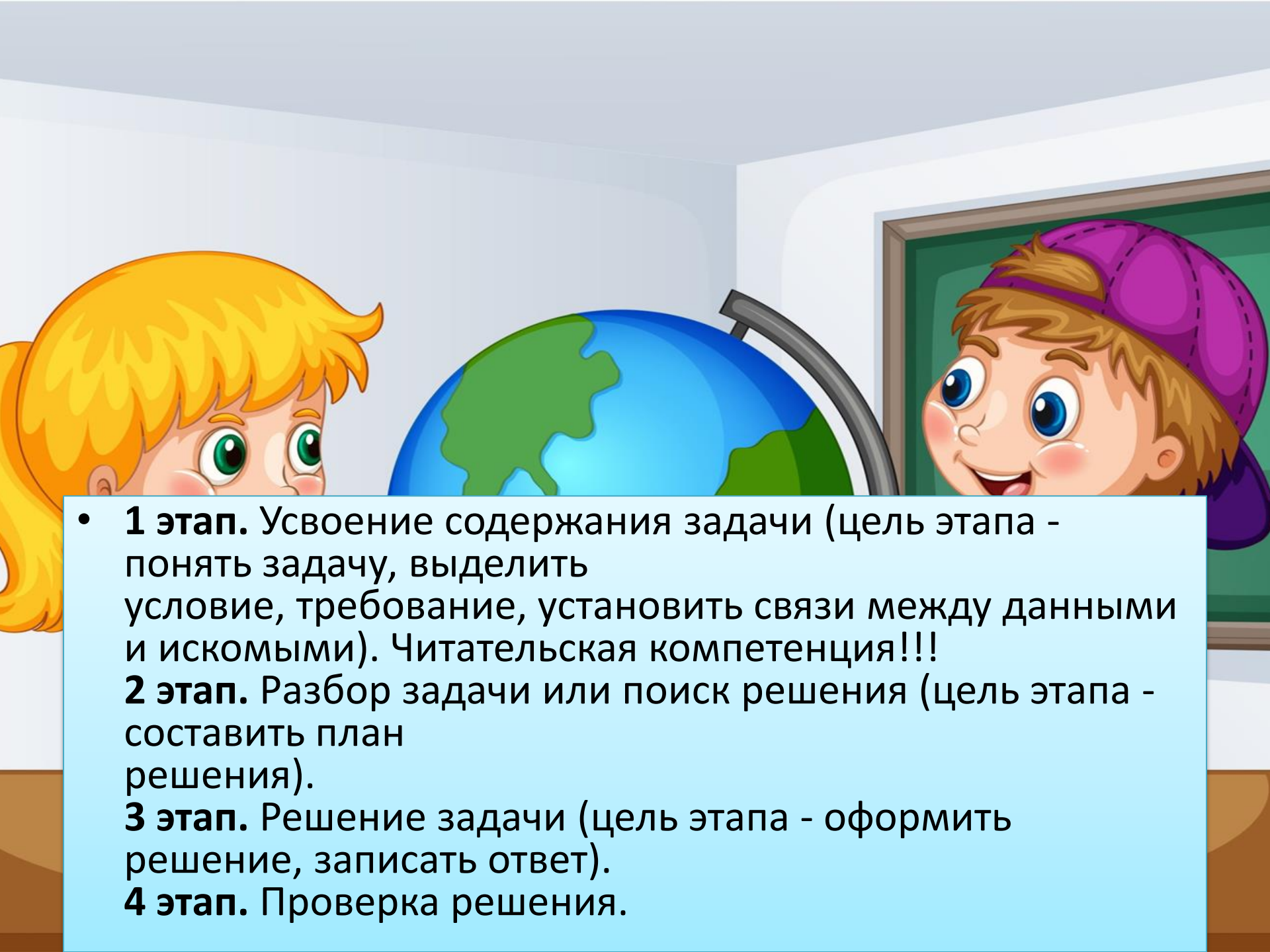
- **Вопрос 2**

- Хозяйка решила покрасить пол в гараже. Для покраски 1 м^2 пола требуется 140 г краски. Краска продается в банках по 1,5 кг. Сколько банок краски нужно купить для покраски пола в гараже?



- **Вопрос 3**

- В сарае хозяйка держит курей, они свободно гуляют по территории участка, на котором построен дом. Она решила огородить огород, чтобы куры не портили посевы. Нужно купить сетку-рабица 1м сетки стоит 45 рублей. Во сколько обойдется покупка сетки.



- **1 этап.** Усвоение содержания задачи (цель этапа - понять задачу, выделить условие, требование, установить связи между данными и искомыми). Читательская компетенция!!!
- 2 этап.** Разбор задачи или поиск решения (цель этапа - составить план решения).
- 3 этап.** Решение задачи (цель этапа - оформить решение, записать ответ).
- 4 этап.** Проверка решения.

Результат:

Отличительные особенности контекстных задач от стандартных математических

значимость (познавательная, профессиональная, общекультурная, социальная) получаемого результата, что обеспечивает познавательную мотивацию учащегося;

условие задачи сформулировано как сюжет, ситуация или проблема, для разрешения которой необходимо использовать знания (из разных разделов основного предмета - математики, из другого предмета или из жизни) на которые нет явного указания в тексте задачи;

информация и данные в задаче могут быть представлены в различной форме (рисунок, таблица, схема, диаграмма, график и т.д.), что потребует распознавания объектов;

указание (явное или неявное) области применения результата, полученного при решении задачи

Читать- это еще ничего не значит:
что читать и как понимать читаемое-
вот в чем главное дело.

К.Д Ушинский



Спасибо за внимание!

